



Grade

3


الامتحان التعويضي لنهاية الفصل الدراسي الثاني 2023/2022

End of Term 2 Make up Exam 2022/2023

		اسم الطالب / Student Name
		المدرسة / School
3		الصف / Class
المسار العام / General		المسار / Stream
Science - Bridge	العلوم - بريدج	المادة / Subject

		اسم المعلم / Teacher Name
		التوقيع / sign

Grade		الدرجة
	110	

يحظر تصوير أو تداول الورقة الامتحانية قبل أو أثناء أو بعد الامتحان من خلال البريد الالكتروني أو وسائل التواصل الاجتماعي أو أي وسيلة أخرى ومن يخالف ذلك سيتخذ في حقه الإجراءات القانونية المتبعة. 

- على إدارت المدارس ولجان الامتحانات ومراكز التقدير مراعاة ذلك و رصد أي مخالفات والعمل على اتخاذ الإجراءات اللازمة.


- It is prohibited to photocopy or circulate the exam paper before / during and after the exam through e-mail, social media or any other means; and whoever violates this will be subject to the followed legal proceedings.










- School Administrations, Exam Committees and Marking Centers shall take this into account, monitor violations and take necessary measures.




ضع دائرة حول رمز الإجابة الصحيحة.




الجزء 1

السؤال	1
أي مما يلي يُمثل مساحة كبيرة من الأرض تحوي ماءً مالحاً؟	
A	نهر
B	بحيرة
C	محيط

السؤال	2
أي من القراءات التالية تُمثله أداة القياس الموضحة في الشكل أدناه؟	
	
A	30 °F
B	60 °F
C	80 °F

السؤال		3						
أي من الأيام التالية لا يوجد به هطول؟								
<table border="1"> <tr> <th>اليوم الأول</th><th>اليوم الثاني</th><th>اليوم الثالث</th></tr> <tr> <td></td><td></td><td></td></tr> </table>			اليوم الأول	اليوم الثاني	اليوم الثالث			
اليوم الأول	اليوم الثاني	اليوم الثالث						
								
	A	اليوم الأول						
	B	اليوم الثاني						
	C	اليوم الثالث						

السؤال		4
أي حرف مما يلي يُشير إلى جسم يمتلك خاصية المغناطيسية ؟		
<div style="display: flex; justify-content: space-around; align-items: center;"> <div style="text-align: center;">  <p>A</p> </div> <div style="text-align: center;">  <p>B</p> </div> <div style="text-align: center;">  <p>C</p> </div> </div>		
	A	A
	B	B
	C	C


5		السؤال
أي حرف مما يلي يُشير إلى جسم كروي الشكل حلو المذاق ؟		
<div style="display: flex; justify-content: space-around; align-items: center;"> <div style="text-align: center;">  <p>A</p> </div> <div style="text-align: center;">  <p>B</p> </div> <div style="text-align: center;">  <p>C</p> </div> </div>		
A		A
B		B
C		C




6		السؤال
أي من المواد التالية تأخذ شكل الوعاء الذي توضع فيه؟		
قلم		A
عصير		B
تفاحة		C




G03	Science- Bridge	العلوم - جريدج	2023-2022
-----	-----------------	----------------	-----------

الجزء 2




السؤال	7
أي من الأحداث الطبيعية التالية يحدث نتيجة للأمطار الغزيرة؟	
A	الزلازل
B	البراكين
C	الفيضانات


السؤال	8
أي مما يلي يُمثل سبب التجوية المُوضح أدناه؟	
	
A	النباتات
B	ذوبان الثلوج
C	الحيوانات

9		السؤال
أي حرف مما يلي يُمثل السحب الركامية؟		
<div style="display: flex; justify-content: space-around; align-items: center;"> <div style="text-align: center;">  <p>A</p> </div> <div style="text-align: center;">  <p>B</p> </div> <div style="text-align: center;">  <p>C</p> </div> </div>		
A		A
B		B
C		C

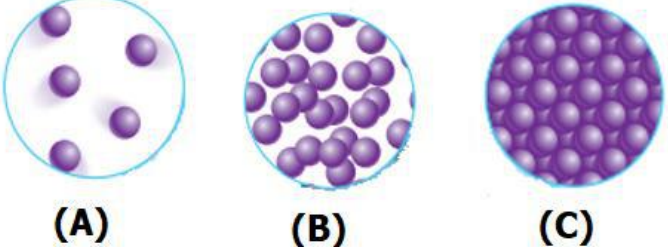
10		السؤال
أي حرف مما يلي يُمثل الإعصار القمعي؟		
<div style="display: flex; justify-content: space-around; align-items: center;"> <div style="text-align: center;">  <p>A</p> </div> <div style="text-align: center;">  <p>B</p> </div> <div style="text-align: center;">  <p>C</p> </div> </div>		
A		A
B		B
C		C

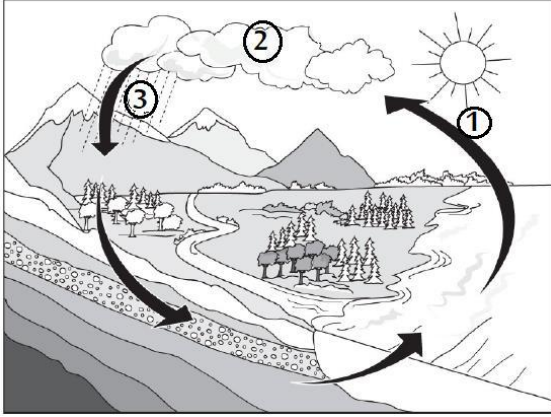
السؤال	11
أي مما يلي يُمثل مقياساً للحيز الذي يشغله جسم ما ؟	
A	الحجم
B	البريق
C	الكتلة

السؤال	12
في الشكل أدناه ، أي حرف مما يلي يُشير إلى جسم يحتوي على عنصر الفضة ؟	
<div style="display: flex; justify-content: space-around; align-items: center;"> <div style="text-align: center;">  <p>A</p> </div> <div style="text-align: center;">  <p>B</p> </div> <div style="text-align: center;">  <p>C</p> </div> </div>	
A	A
B	B
C	C

13		السؤال
أي من خصائص المواد يتم قياسها في الشكل أدناه؟		
		
الحجم	A	
الوزن	B	
الكتلة	C	

14		السؤال
أي حرف مما يلي يُشير إلى أداة تُستخدم لقياس كتلة الجسم؟		
		
A	A	
B	B	
C	C	

15		السؤال
أي حرف مما يلي يُشير إلى جُسيمات المادة الغازية؟		
		
A		A
B		B
C		C

16		السؤال
استخدم الرّسم التّوضيحيّ لدورة الماء للإجابة عن السؤال: أي رقم مما يلي يُشير إلى التكاثف؟		
		
1		A
2		B
3		C

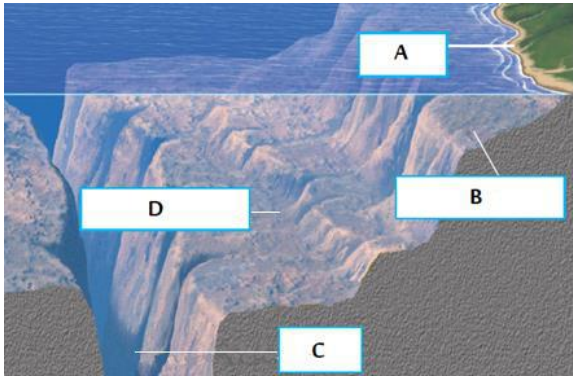
الجزء 3

17

السؤال

يُوضح الشكل أدناه قاع المحيط. ادرسه وأجب عن الأسئلة التالية :

- ما الحرف الذي يُمثل المنطقة التي تفصل بين اليابسة والماء ؟



- ما الحرف الذي يُمثل أعماق نقطة في قاع المحيط ؟

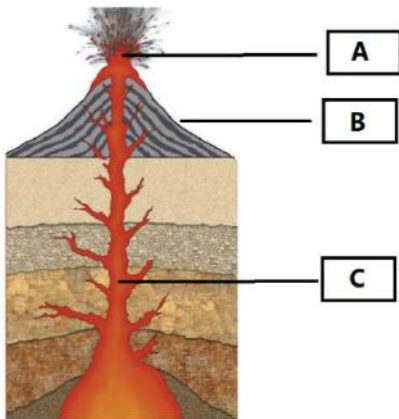
- ما الذي يُشير إليه الحرف B في الصورة ؟

18

السؤال




يُمثل الشكل المجاور تكون البراكين. ادرسه وأجب عن الأسئلة :

- ما الحرف الذي يُمثل الصخور المنصهرة التي تتحرك في طبقات الأرض ؟



- ماذا تسمى الصخور المنصهرة التي تتحرك في طبقات الأرض ؟

- ما الحرف الذي يُشير إلى الحمم البركانية؟

السؤال	19
<p>يُمثل الشكل أدناه ثلاث أدوات تُستخدم لقياس الطقس ، اكتب اسم كل أداة في المربع المجاور.</p>	
<div style="display: flex; align-items: center;">  <div style="border: 1px solid black; width: 200px; height: 40px; margin-left: 20px;"></div> </div>	
<div style="display: flex; align-items: center;">  <div style="border: 1px solid black; width: 200px; height: 40px; margin-left: 20px;"></div> </div>	
<div style="display: flex; align-items: center;">  <div style="border: 1px solid black; width: 200px; height: 40px; margin-left: 20px;"></div> </div>	

السؤال	20
<p>أكمل العبارات التالية بإحدى هذه الكلمات: (درجة الحرارة ، الزلازل ، التجوية ، القارة ، دورة الماء)</p>	
<ul style="list-style-type: none"> • يسمى انكسار الصخور إلى قطع أصغر • تسمى كل واحدة من مناطق اليابسة السبعة الكبيرة • هي حركة مفاجئة للصخور التي تتكون منها القشرة الأرضية. • هي مقياس مدى سخونة الجسم أو برودته. • حركة الماء بين سطح الأرض والغلاف الجوي تسمى 	

*******BONUS*******

السؤال

21

يُوضح الجدول أدناه متوسط درجة الحرارة في يوليو في خمسة بلدان.
رتب البلدان ترتيباً تنازلياً وفقاً لمتوسط درجة الحرارة.

متوسط درجة الحرارة في يوليو				
الصين	إيسلاند	كينيا	البرازيل	المكسيك
China	Iceland	Kenya	Brazil	Mexico
28°C	13°C	25°C	29°C	30°C
(83°F)	56°F	77°F	(84°F)	(86°F)

.....

.....



.....

.....

*******BONUS*******

السؤال

22

ضع إشارة  أمام العبارة الصحيحة و إشارة  أمام العبارة الخاطئة:

- يتشكل الطقس في طبقة الغلاف الجوي الأبعد عن الأرض . ()
- يدخل الماء الغلاف الجوي بصورة المطر . ()
- التبخر هو تحول السائل الى غاز . ()
- البحيرة تمثل مساحة من الأرض تحوي ماءً عذباً أو ماءً مالحاً. ()
- الترسيب هو تجميع الصخور التي تعرضت لعوامل التجوية في مكان واحد. ()

أنتهت الأسئلة